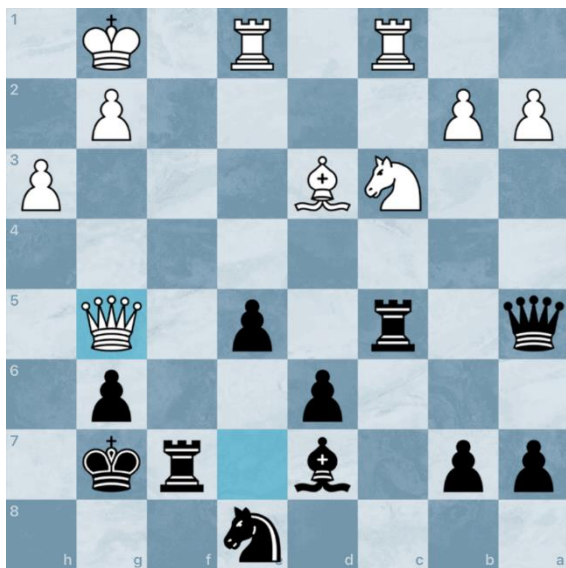
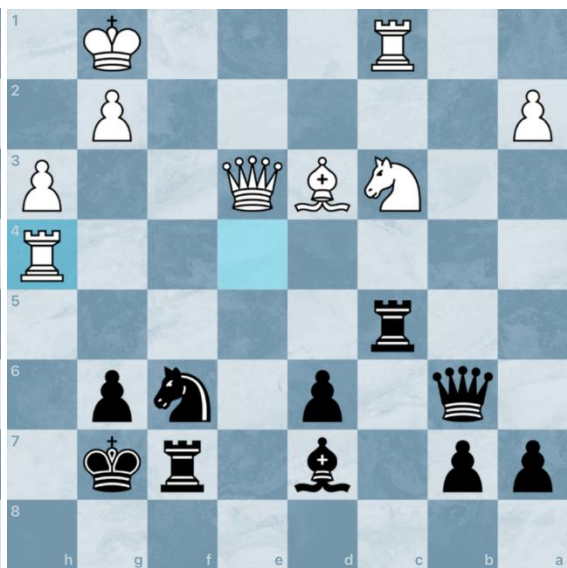


## Oplossingen schaakopgaves



Opg 1 Zwart speelt en wint

e4! De toren krijgt ruim baan richting de witte dame. Als deze in veiligheid wordt gebracht, blijft de witte loper hangen.



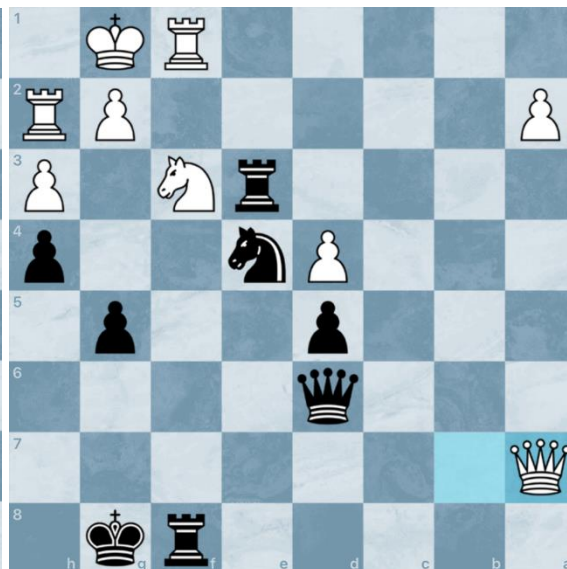
Opg 2 Zwart speelt en wint

Txc3! De witte dame staat gepend en kan niet binnenvallen op h6. Na Dxb6, heeft wit een tussenzet met Txc1 met schaak!



Opg 3 Wit speelt en wint

Zwart zag Db3 schaak over het hoofd. De pion op b6 valt, met een dubbele aanval op paard en de pion op c5.



Opg 4 Zwart speelt en wint

Na Ta3, Db7 en Tb8! heeft de witte dame geen enkel vluchtveld!